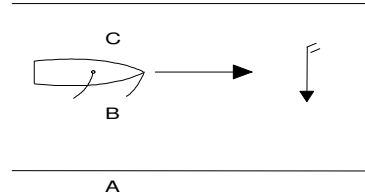


Nautisch Inzicht

- 1 In de figuur moet je aangeven welke termen/namen er bij de verschillende nummers horen.
Welke combinatie is goed ?

- a) de hoge wal, loef- en lijzijde;
- b) de lage wal, lij- en loefzijde;
- c) de hoge wal, lij- en loefzijde;
- d) de lage wal, loef- en lijzijde.



- 2 Als je achteruitvaart en je duwt de helmstok naar bakboord dan gaat de boot met de boeg naar:

- a) stuurboord;
- b) bakboord;
- c) gewoon rechtdoor;
- d) geen van de antwoorden is goed, het is afhankelijk van het type roer.

- 3 Waaraan kun je zien dat je te hoog aan de wind vaart?

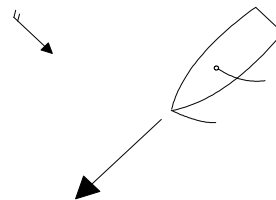
- a) het killen van het achterlijk;
- b) het vaantje;
- c) de golfjes op het water;
- d) het killen van het voorlijk.

- 4 Wat betekent "bezeild":

- a) zeer hoog aan de wind varen;
- b) alleen op je grootzeil varen;
- c) zonder laveren een punt bereiken;
- d) een motorschip op een voor de windse koers.

- 5 Het schip in de figuur zeilt:

- a) halve wind;
- b) ruime wind;
- c) bij de wind;
- d) aan de wind.



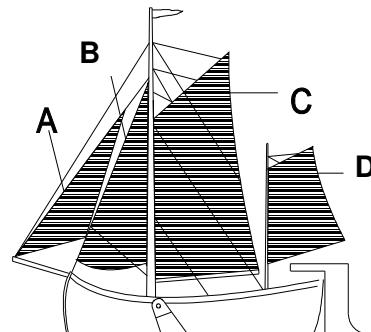
- 6 Bij het hijsen van het grootzeil moet je ervoor zorgen dat.....

- a) de grootschoot strak en vast staat;
- b) de klauwval niet te ver doorgehaald wordt;
- c) het schip met de kop in de wind ligt;
- d) de fok goed gehesen is.

- 7 Wat kun je doen aan een lijgierige vlet?
- a) kleinere fok gebruiken;
 - b) mast naar achteren verplaatsen;
 - c) grotere fok gebruiken;
 - d) kleiner grootzeil gebruiken.
- 8 Als het tijdens het varen gaat onweren, dan
- a) ga je zo snel mogelijk voor anker.
 - b) gebruik je een zwemvest tegen de blikseminslag.
 - c) ga je zo snel mogelijk van het water af.
 - d) ga je aan hogewal varen.
- 9 Wanneer je wilt afvallen zonder je roer te gebruiken, dan moet je ?
- a) fok aanhalen, grootzeil vieren;
 - b) grootzeil en fok gelijk vieren;
 - c) fok vieren, grootzeil aanhalen;
 - d) grootzeil en fok gelijk aanhalen.
- 10 Je meert je schip af langsij een groot schip, dat aan de wal ligt. Bij het aan de wal gaan, ga je bij voorkeur via
- a) de kortste weg naar de wal.
 - b) het achterschip van je buurman.
 - c) via de luiken of over de achterroef.
 - d) het voorschip van je buurman.
- 11 Als het voorlijk van het grootzeil tegenbolt, moet je:
- a) het grootzeil aantrekken;
 - b) het grootzeil vieren;
 - c) gewoon doorvaren;
 - d) de fok vieren.

- 12 Welk zeil draagt het meest bij tot het loefgierig maken van dit schip?

- a) Zeil A;
- b) Zeil B;
- c) Zeil C;
- d) Zeil D.

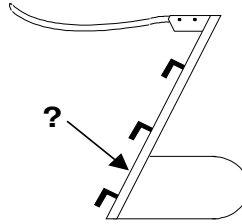


- 13 Als je op een vaarwater waar stroom staat, langs een kade wilt meren, zal je deze kade bij voorkeur naderen
- a) met de stroom van achteren.
 - b) tegen de stroom in.
 - c) zonder rekening te houden met de stroom.
 - d) met de boeg naar de kant.

Technisch Inzicht

1 Wat wordt in de figuur door de pijlen aangegeven?

- a) roerhaak;
- b) vingerling;
- c) roerkoning;
- d) hangijzer.

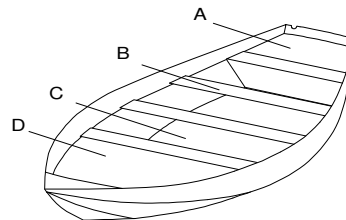


2 Met "staand want" bedoelen we;

- a) alléén de voorstag;
- b) alléén de zijstagen;
- c) de bakstagen;
- d) alle stagen.

3 Welke letter geeft een doft aan?

- a) A
- b) B
- c) C
- d) D



4 Een spring is:

- a) een haakvoor;
- b) een extra stevige landvast;
- c) een landvast schuin naar voren van achteraf;
- d) een boegspriet.

5 Een piekeval dient voor:


- a) het hijsen en afstellen van het grootzeil;
- b) het hijsen en op spanning brengen van het voorlijk van het grootzeil,
- c) het reven van het grootzeil,
- d) het ophangen van de gaffel wanneer de zeilen gestreken zijn.

6 De meeste zeilschepen hebben een grootzeil met één of meer zeillatten. Zo ook de lievalt. Deze zeillatten dienen om:

- a) te voorkomen dat het achterlijk van het grootzeil scheurt;
- b) het grootzeil sterker te maken voor als het hard waait;
- c) op ruimere koersen beter te kunnen zeilen;
- d) het klapperen van het achterlijk tegen te gaan.

7 Wat voor splits is dit?

- a) Een oogsplits.
- b) Een eindsplits
- c) Een lange splits.
- d) Een korte splits.



8 Welke knoop gebruik je om een dunne landvast aan een veel dikkere sleeplijn vast te maken?

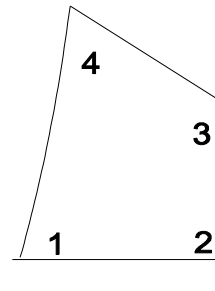
- a) een mastworp;
- b) een platte knoop;
- c) een achtknoop;
- d) een dubbele schootsteek.

9 Bij het onderhoud moet roest:

- a) glad geschuurd en met een primer worden behandeld.
- b) geheel worden weg geplamuurd en de kale plek moet een extra laag grondverf krijgen.
- c) geheel worden verwijderd en de kale plek moet met een primer worden behandeld.
- d) glad geschuurd en verder gewoon worden geverfd.

10 Hoe heten de hoeken van het zeil?

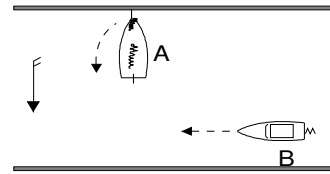
- a) 1=Schoothoek. 2=Halshoek. 3=Klauwhoek. 4=Tophoek;
- b) 1=Schoothoek. 2=Klauwhoek. 3=Halshoek. 4=Tophoek;
- c) 1=Schoothoek. 2=Halshoek. 3=Tophoek. 4=Klauwhoek;
- d) 1=Halshoek. 2=Schoothoek. 3=Klauwhoek. 4=Tophoek.



Binnenvaart Politie Reglement

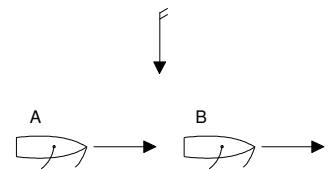
1 A wil wegzeilen van hogerwal, wat geldt hier volgens het BPR?

- a) A mag wegvaren, want B is een motorschip.
- b) A mag wegvaren, omdat hij van stuurboordswal vertrekt.
- c) A mag wegvaren maar B daar niet bij hinderen.
- d) A moet altijd wachten tot de andere schepen voorbij zijn.



2 In de situatie hiernaast wil lelievlet A oplopen, wat moet lelievlet B doen?

- a) B hoeft niet te wijken, A mag passeren als er geen gevaar dreigt;
- b) B moet wijken naar stuurboord;
- c) B moet wijken naar bakboord;
- d) oplossen volgens goede zeemanschap.

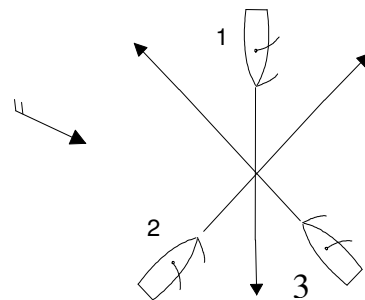


3 Als een vaartuig B aan vaartuig A voorrang moet verlenen, wat moet A dan doen?

- a) koers en snelheid behouden;
- b) snelheid verminderen en uitwijken;
- c) schippersgroet brengen;
- d) één lange stoot op de sloopshoorn geven.

4 Geef de volgorde van doorvaart in de situatie hiernaast:

- a) 2 - 3 - 1
- b) 1 - 3 - 2
- c) 3 - 2 - 1
- d) 1 - 2 - 3

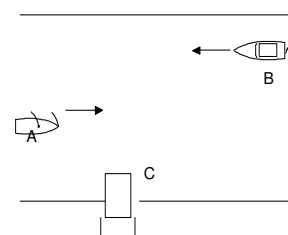


5 Waar is het BPR *wel* geldig?

- a) Op de Randmeren.
- b) Op de Waal.
- c) Op de Rijn.
- d) Op de Westerschelde.

6 In de figuur naderen een zeilende lelievlet (A) en een klein motorschip (B) een, vrij varende, pont (C). Wat geldt hier volgens het BPR?

- a) A en B moeten wachten op C;
- b) C moet wachten op A en B moet wachten op C;
- c) C moet wachten op A en B;
- d) staat niet omschreven.

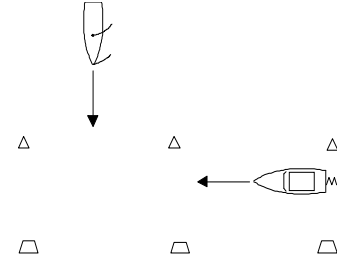


7 Welk kenteken moet er minimaal op een lelievlet zonder motor staan?

- a) Geen.
- b) De naam van het schip.
- c) De naam van de eigenaar.
- d) Het zeilnummer.

8 Een motorschip vaart in de vaargeul.
Van stuurboord nadert een zeilschip dat de vaargeul wenst te kruisen.
Wie moet voorrang verlenen?

- a) beide schepen moeten naar stuurboord uitwijken;
- b) het motorschip moet voorrang verlenen aan het zeilschip;
- c) het zeilschip moet voorrang verlenen aan het motorschip;
- d) staat niet als zodanig beschreven.



9 Met een "zeilend vaartuig" wordt in het BPR bedoeld:

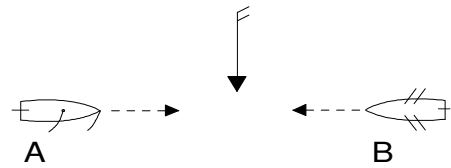
- a) Een zeilboot of een motorboot met motor en steunzeil bij;
- b) een vaartuig dat uitsluitend door de zeilen voortbewogen wordt;
- c) een zeilboot met zeilen en buitenboordmotor bij;
- d) een zeilboot met zeilen korter dan 20 meter.

10 Wat is de minimumleeftijd van een roerganger van een klein,
door spierkracht voortbewogen schip met een lengte van 8 meter?

- a) geen leeftijdsbeperking;
- b) 12 jaar;
- c) 16 jaar;
- d) 18 jaar.

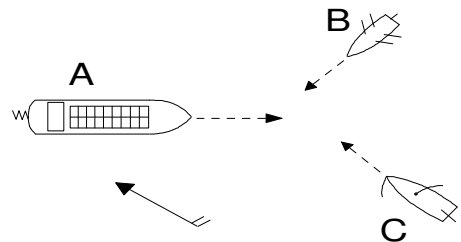
11 Twee schepen naderen elkaar op een tegengestelde koers.
Wie moet voorrang geven?

- a) Ze moeten beide naar stuurboord uitwijken.
- b) Roeiboot B moet voorrang geven.
- c) Zeilboot A moet voorrang geven.
- d) Ze moeten beide naar bakboord uitwijken.



12 In welke volgorde mogen A, B en C doorvaren?

- a) B - C - A.
- b) A - B - C.
- c) C - A - B.
- d) A - C - B.

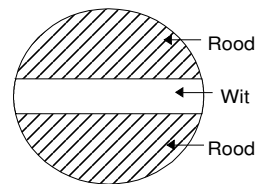


Lichten, Seinen en Termen

- 1 Wanneer moet je verlichting voeren?
- a) van een half uur voor zonsondergang tot een half uur na zonsopkomst;
 - b) als het donker is, en bij dichte mist;
 - c) 's nachts altijd en overdag wanneer het weer het zicht beperkt;
 - d) alleen 's nachts.

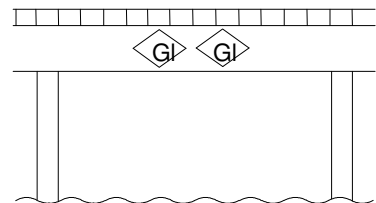
- 2 Mag je, met een klein schip, op een gedeelte van de vaarweg varen waar dit bord staat?

- a) Nee dit mag in geen enkel geval.
- b) Ja, alleen zonder motor aan boord.
- c) Ja, alleen met de motor aan.
- d) Alleen als je een vaarbewijs hebt.



- 3 Wat betekenen deze borden?

- a) verboden onder door te varen;
- b) toegestaan door te varen, tegenliggers mogelijk;
- c) toegestaan door te varen, geen tegenliggers te verwachten;
- d) toegestaan door te varen.



- 4 Wat betekent dit geluidsssein (kort)? ■

- a) Ik ga bakboord uit.
- b) Ik ga stuurboord uit.
- c) Attentie.
- d) Ik sla achteruit.

- 5 Waarvoor dient rode en groene betonning?

- a) voor het aangeven van een vaargeul;
- b) om aan te geven waar je aan kan leggen;
- c) om aan te geven dat hier alleen grote schepen mogen varen;
- d) om gevaarlijk vaarwater aan te geven.

- 6 's Nachts zie je de lichten zoals hiernaast aangegeven.
Wat betekenen ze ?

- a) er komt een grootschip op je af;
- b) je nadert een obstakel waar je al langsvarend geen golfslag mag veroorzaken;
- c) je nadert een brug die buiten gebruik is;
- d) je nadert een brug of sluis waarvan de invaart verboden is maar aanstonds wordt toegestaan.



- 7 Als je 's nachts de laatste lelievlet in een sleep bent voer je ?
- a) boordlichten, wit heklicht, wit rondom schijnend toplicht;
 - b) een wit rondom schijnend toplicht en een geel heklicht;
 - c) een wit rondom schijnend toplicht;
 - d) een wit rondom schijnend toplicht en een wit heklicht.
- 8 Welk geluidsein geef je als noodsein?
- a) 1 korte stoot;
 - b) 3 lange stoten;
 - c) een reeks lange stoten;
 - d) 1 zeer lang aangehouden geluidsein.
- 9 Welk licht moet je 's nachts voeren als je met een lelievlet jaagt in een kanaal?
- a) een rondomschijnend wit licht;
 - b) een rondomschijnend geel licht;
 - c) een wit toplicht;
 - d) alleen bij nadering van een ander vaartuig een wit rondomschijnend licht.
- 10 Welke definitie is juist?
- a) boordlichten: een rood licht aan SB, een groen licht aan BB;
 - b) boordlichten: een groen licht aan SB, een rood licht aan BB;
 - c) heklicht: een wit rondom schijnend licht op het hek van het schip;
 - d) boordlicht: een driekleurenlicht op de boeg